

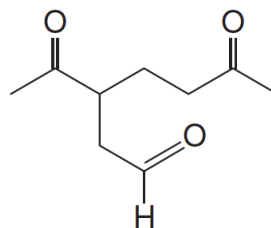
CORSO DI LAUREA MAGISTRALE IN FARMACIA
Prova Scritta di CHIMICA ORGANICA I (11 Luglio 2022)

COGNOME e NOME _____ Matricola: _____

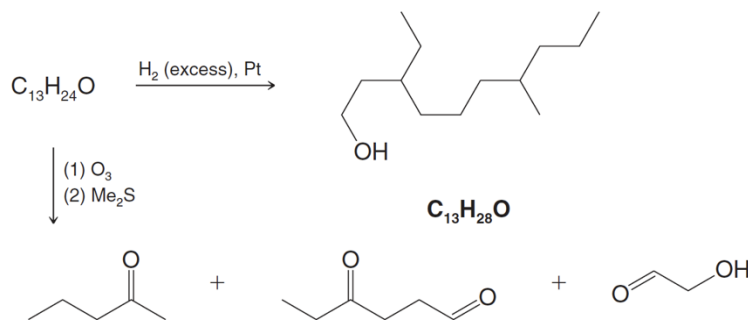
- 1) (punti 2.0) Scrivi la stereochimica (R/S) per tutti i carboni stereogenici dei prodotti che ti aspetteresti per ciascuna delle seguenti reazioni.
Definisci la relazione stereoisomerica tra i prodotti ottenuti per ogni singola reazione.
Indica l'intermedio del primo passaggio della reazione di osmilazione.



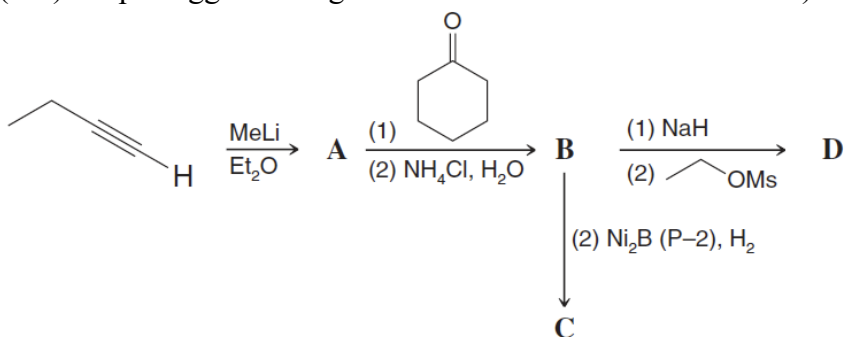
- 2) (punti 0.7) (a) Il limonene è un composto che si trova nell'olio d'arancia e nell'olio di limone. Quando il limonene viene trattato con idrogeno in eccesso e un catalizzatore di platino, il prodotto di reazione è 1-isopropil-4-metilcicloesano. Quando il limonene viene trattato con ozono e poi con dimetilsolfuro (Me_2S , lavora come Zn/AcOH), i prodotti di reazione sono formaldeide (HCHO) e il composto visto sotto. Scrivi la formula strutturale per il limonene.



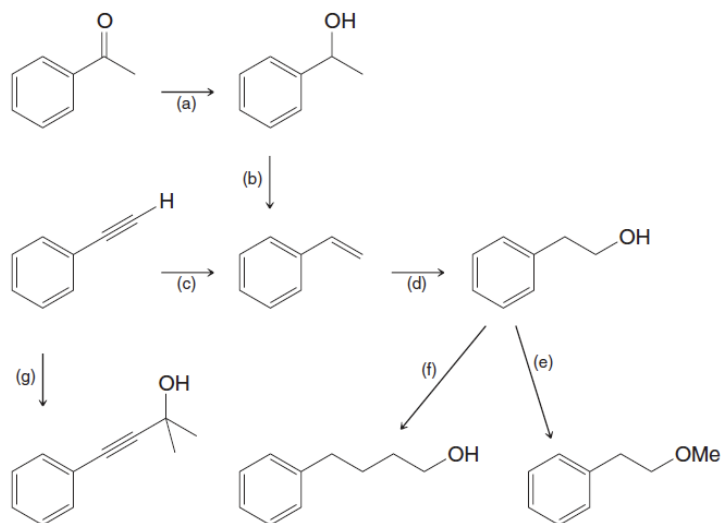
- (punti 0.7) (b) I feromoni sono sostanze secrete dagli animali che producono una risposta comportamentale specifica in altri membri della stessa specie. I feromoni sono efficaci a concentrazioni molto basse e includono attrattivi sessuali, sostanze allarmanti e composti di "aggregazione". Il feromone di attrazione sessuale della falena della mela verde ha la formula molecolare $\text{C}_{13}\text{H}_{24}\text{O}$. Usando le informazioni che puoi ricavare dal diagramma di reazione, deduci la struttura del feromone sessuale della falena della mela verde. I doppi legami sono noti come (2Z, 6E).



- 3) (punti 2.0) Quali prodotti A-C ti aspetteresti da ciascuna delle seguenti reazioni? Presenta il meccanismo della reazione per ottenere il composto A. (Nel passaggio B-D, il reagente (2) EtOMs (mesilato di etile o metansolfonato di etile $\text{CH}_3\text{SO}_3\text{CH}_2\text{CH}_3$) si comporta da buon gruppo uscente, mentre $\text{Ni}_2\text{B(P-2)}$ nel passaggio B-C agisce come il catalizzatore di Lindlar).



- 4) (Punti 2.6) Indica i reagenti necessari per effettuare le trasformazioni (a)-(g). Potrebbe essere necessario più di un passaggio. Per ogni passaggio definisci la reazione coinvolta per la formazione di un intermedio o di un prodotto finale, esempio: addizione nucleofila al carbonile, riduzione, ossidazione, etc.



- 5) (punti 2.0) Gli epossidi possono essere sintetizzati trattando aloidrini con basi acquose. Proporre un meccanismo per la reazione (a) e (b) e spiegare perché non si osserva formazione di epossido per la reazione (c). Dove necessario indica la configurazione assoluta (R/S) dei carboni stereogenici.

